

**МИНИСТЕРСТВО НАУКИ И ВЫСШЕГО ОБРАЗОВАНИЯ
РОССИЙСКОЙ ФЕДЕРАЦИИ**

Федеральное государственное автономное образовательное учреждение
высшего образования
«Национальный исследовательский
Нижегородский государственный университет им. Н.И. Лобачевского»

Факультет физической культуры и спорта

Н.Г. Титова

Э К О Н О М И К А

**Контрольные задания и методические рекомендации по
организации самостоятельной работы студентов**

Учебно-методическое пособие

Рекомендовано методической комиссией факультета физической культуры и
спорта для студентов ННГУ, обучающихся по направлениям подготовки
49.03.01 «Физическая культура» и
49.03.03 «Рекреация и спортивно-оздоровительный туризм»

Нижегород
2024

УДК 33 (072)
ББК У01р30
Т-45

Т45 Титова Н.Г. Экономика. Контрольные задания и методические рекомендации по организации самостоятельной работы студентов: учебно-методическое пособие. Нижний Новгород: Изд-во ННГУ, 2024. – 57 с.

Рецензент:
к.э.н., доцент **Т.С. Морозова**

Учебно-методическое пособие разработано на основе рабочей программы дисциплины «Экономика». Содержит контрольные задания и методические рекомендации по их выполнению, перечень основной и дополнительной учебной литературы, примерный перечень вопросов к экзамену.

Данное учебно-методическое пособие рекомендовано для студентов заочной формы обучения, по направлениям подготовки 49.03.01 «Физическая культура» и 49.03.03 «Рекреация и спортивно-оздоровительный туризм»

Ответственный за выпуск:
председатель методической комиссии факультета ФКС Т.А. Малышева

УДК 330(072)
ББК У01р30

© Н.Г. Титова

© Нижегородский государственный
университет им Н.И. Лобачевского

ОГЛАВЛЕНИЕ

1.Методические рекомендации по подготовке и оформлению контрольной работы по «Экономике».....	4
2.Варианты контрольных работ.....	6
3.Примерный перечень вопросов к экзамену по дисциплине «Экономика»	48
4.Рекомендуемая литература.....	50
5.Приложения.....	52

1. Методические рекомендации по подготовке и оформлению контрольной работы по «Экономике»

Контрольная работа по экономике является одной из форм контроля знаний студентов по дисциплине «Экономика».

Вариант работы выбирается по начальной букве фамилии студента. Образец оформления титульного листа предложен в приложении на стр. 52. Для написания работы необходимо использовать материалы лекций, учебников, учебных пособий, дополнительную литературу. Список источников предложен на странице 50. На платформе <https://e-learning.unn.ru/> в электронно-управляемом курсе «Экономика» также можно найти теоретический и практический материал для выполнения работы.

Основные требования к оформлению: общий объем 5-10 печатных страниц, 14 шрифт, полуторный интервал. Электронный вариант контрольной работы нужно направить преподавателю на портал в назначенный срок. Затем контрольную работу студент должен сдать в деканат. Контрольная работа должна быть переплетена в папку-скоросшиватель.

Структура работы:

Титульный лист (см. Приложение 1).

Содержание. Контрольная работа состоит из трех заданий:

1. Теоретический вопрос.

Студентам необходимо представить развернутый письменный ответ на теоретический вопрос. Использовать формулы, схемы, графики. В тексте ответов на вопросы должны быть ссылки на учебники и источники, которые непосредственно использовались при написании работы с указанием конкретных страниц. Ссылку можно оформить в виде скобок непосредственно в тексте, где указать № источника в списке литературы и страницу ссылки на

источник.

2. Задача.

Решение задачи должно быть подробным, со всеми промежуточными действиями, расчетами и графическим изображением. Пример решения задачи представлен в Приложении 2.

3. Контрольные тесты.

Необходимо выбрать единственный правильный ответ по каждому из пяти тестов. Свой выбор необходимо аргументировать расчетами, графиками, теоретическими обоснованиями. Пример оформления ответа по тестам представлен в Приложении 3.

Список использованных источников. Он должен включать те источники, которые Вы непосредственно использовали при написании контрольной работы, именно на эту литературу должны быть ссылки в тексте ответа на теоретический вопрос и в обоснованиях по тестам.

Список литературы оформляется по фамилии авторов источников в алфавитном порядке. Если представлен большой коллектив авторов, то в список литературы источник включается по названию и затем, указывается редакция. Необходимо указать город, издательство, год издания, общее количество страниц в источнике. Образец оформления списка литературы можно посмотреть в части 4 данных методических рекомендаций.

Список источников сети Интернет должен содержать полный электронный адрес используемой информации и в скобках последнюю дату обращения к источнику.

2. Варианты контрольных работ

Контрольная работа. Вариант «А»

Теоретический вопрос

Государственный бюджет, его структура.

Задача

Спрос на товар определен функцией $Q_d = 14 - 2p$. Предложение товара определено функцией $Q_s = -4 + 2p$, (где Q_d – объем спроса, Q_s – объем предложения, p – цена).

Построить график. Определить равновесную цену и равновесный объем продаж. Определите величину избытка (дефицита), при условии установления фиксированной цены равной 3 ден. ед. Решение представить графически и аналитически. Каким образом на рынке данного товара может восстановиться равновесие?

Контрольные тесты

1. Проблему ограниченности ресурсов иллюстрирует график:

- а) спроса
- б) предложения
- в) издержек производства
- г) границы производственных возможностей

2. Цех выпускает 1000 штук товара. В цеху занято 50 человек рабочих. Руководство цеха решило организовать дополнительную смену. Было принято на работу ещё 60 рабочих. В результате выпуск продукции увеличился на 120%. Как изменилась производительность труда?

- а) не изменилась
- б) увеличилась на 20%
- в) уменьшилась на 20%
- г) увеличилась на 120%
- д) увеличилась на 220%

3. Если номинальная ставка процента равна 20% в год, а цены растут на 25% в год, то реальная процентная ставка равна

- а) -4% б) -5% в) 0% г) 5% д) 45%

4. Рынок совершенной конкуренции характеризует все, кроме того, что...

- а) каждый производитель устанавливает свою цену
б) каждый производитель имеет мизерную долю рынка данного товара
в) производители хорошо информированы о рыночной конъюнктуре
г) производители могут свободно входить на рынок и выходить из него

5. Если предприятие увеличивает закупки сырья, нанимает дополнительных рабочих и на том же оборудовании организует работу в третью смену, то эти мероприятия характеризуют _____ экономический период времени.

- а) долгосрочный
б) неограниченный
в) краткосрочный
г) мгновенный

Контрольная работа. Вариант «Б»

Теоретический вопрос

Потребности и ресурсы. Экономический выбор.

Задача

Спрос на товар определен функцией $Q_d = 36 - 2p$. Предложение товара определено функцией $Q_s = -4 + 3p$. (где Q_d – объем спроса, Q_s – объем предложения, p – цена).

Построить график. Определить равновесную цену и равновесный объем продаж. Определите величину избытка (дефицита), при условии установления фиксированной цены равной 6 ден. ед. Решение представить графически и аналитически. Каким образом на рынке данного товара может восстановиться равновесие?

Контрольные тесты

1. Доходом на фактор производства капитал является:

- а) процент
б) прибыль

- в) дивиденд
- г) зарплата
- д) другой ответ

2. Если спрос на труд и предложение труда описываются формулами $L_d = 50 - W$, $L_s = 2W - 25$, где L_d – объем используемого труда в тыс. человеко-дней, а W – дневная ставка заработной платы, то при какой ставке заработной платы на рынке обнаружится дефицит рабочей силы?

- а) 20 б) 25 в) 30 г) нельзя определить

3. Ликвидность – это:

- а) покупательная способность денег
- б) способность активов обмениваться на другие активы
- в) способность валюты конвертироваться
- г) все ответы верны

4. Рынки совершенной и монополистической конкуренции имеют общую черту:

- а) выпускаются дифференцированные товары
- б) поведение каждой фирмы зависит от реакции ее конкурентов
- в) фирмы обладают монопольной властью
- г) на рынке много покупателей и продавцов

5. Если постоянные издержки фирмы составляют 500 ден. ед., а средние переменные 10 ден. ед. при объеме производства 100 единиц продукции, то общие издержки фирмы равны...

- а) 500 б) 1500 в) 1000 г) 100

Контрольная работа. Вариант «В»

Теоретический вопрос

Особенности рынка земли. Цена земли. Земельная рента и ее виды.

Задача

Спрос на товар определен функцией $Q_d = 14 - 2p$. Предложение товара определено функцией $Q_s = 4p - 10$. (где Q_d – объем спроса, Q_s – объем предложения, p – цена).

Построить график. Определить равновесную цену и равновесный объем продаж. Определите величину избытка (дефицита), при условии установления фиксированной цены равной 3 ден. ед. Решение представить графически и аналитически. Каким образом на рынке данного товара может восстановиться равновесие?

Контрольные тесты

1. То, что величина альтернативных затрат при увеличении выпуска каждого из товаров на единицу возрастает, объясняется тем, что:

- а) ресурсы, используемые для производства товаров полностью взаимозаменяемы
- б) нет полной взаимозаменяемости ресурсов
- в) ресурсы используются не полностью
- г) нет возможностей производить одновременно два вида товара

2. В первый год производительность труда выросла на 10 %. Во второй год производительность труда выросла на 20 %. Определите, как изменилась производительность труда за два года:

- а) выросла на 20 %
- б) выросла на 30 %
- в) выросла на 32 %
- г) выросла на 10 %
- д) недостаточно данных для ответа

3. Выберите полный перечень функций денег.

- а) мера стоимости, средство обращения, средство платежа
- б) мера стоимости, средство обращения, средство сбережения
- в) средство обращения, средство платежа, средство сбережения
- г) средство обращения, мировые деньги, средство платежа
- д) средство обращения, мировые деньги, мера стоимости

4. Тезис о «невидимой руке» рынка принадлежит...

- а) Аристотелю
- б) А. Смиту
- в) К. Марксу
- г) А. Маршаллу
- д) Дж. М. Кейнсу

5. Объем выпуска продукции фирмы в неделю – 20 штук товара. Затраты составляют: сырье – 200 тыс.руб., аренда помещения – 100 тыс.руб., зарплата производственных рабочих – 800 тыс. руб., амортизация оборудования – 100 тыс. руб., зарплата менеджеров – 500 тыс. руб. Средние переменные издержки фирмы равны ... (тыс.руб.)

- а) 50
- б) 60
- в) 75
- г) 85

Контрольная работа. Вариант «Г»

Теоретический вопрос

Особенности спроса и предложения на факторы производства. Производственная функция.

Задача

Спрос на товар определен функцией $Q_d = 6 - 0,5p$. Предложение товара определено функцией $Q_s = -2 + 0,5p$ (где Q_d – объем спроса, Q_s – объем предложения, p – цена).

Построить график. Определить равновесную цену и равновесный объем продаж. Определите величину избытка (дефицита), при условии установления фиксированной цены равной 5 ден. ед. Решение представить графически и аналитически. Каким образом на рынке данного товара может восстановиться равновесие?

Контрольные тесты

1. Естественный уровень безработицы можно определить как отношение:

- а) суммы фрикционных и структурных безработных к численности населения

- б) суммы фрикционных и циклических безработных к численности населения
- в) суммы структурных и циклических безработных к совокупной рабочей силе
- г) суммы фрикционных и структурных безработных к совокупной рабочей силе
- д) суммы структурных и циклических безработных к численности населения

2. Какой из перечисленных ниже активов является наименее ликвидным?

- а) чековый сберегательный депозит
- б) депозит до востребования
- в) 1000-рублевая банкнота
- г) 5000-рублевая банкнота
- д) государственные краткосрочные облигации

3. Инфляция спроса, это:

- а) снижение совокупного спроса
- б) рост совокупного спроса
- в) слишком много денег «охотятся» за малым количеством товара
- г) рост затрат на сырье

4. Одна из форм несовершенной конкуренции, при которой данный товар приобретается ограниченным числом потребителей, что позволяет им оказывать существенное влияние на рыночную цену товара, но одновременно требует от них принимать во внимание возможную реакцию конкурентов:

- а) олигополия
- б) монополия
- в) монополия
- г) олигополия
- д) монополистическая конкуренция

5. Вычислите бухгалтерскую прибыль фирмы, если внутренние издержки равны 20 тыс. рублей; внешние издержки равны 30 тысяч рублей, а общая выручка по итогам отчетного периода составила 60 тысяч рублей.

- а) 10 тыс.руб.

- б) 20 тыс.руб.
- в) 30 тыс.руб.
- г) 50 тыс.руб.
- д) 60 тыс.руб.

Контрольная работа. Вариант «Д»

Теоретический вопрос

Возникновение и сущность денег. Функции денег.

Задача

Спрос на товар определен функцией $Q_d = 90 - p$. Предложение товара определено функцией $Q_s = -30 + 3p$. (где Q_d – объем спроса, Q_s – объем предложения, p – цена).

Построить график. Определить равновесную цену и равновесный объем продаж. Определите величину избытка (дефицита), при условии установления фиксированной цены равной 20 ден. ед. Решение представить графически и аналитически. Каким образом на рынке данного товара может восстановиться равновесие?

Контрольные тесты

1. Какая из названных характеристик не относится к рыночной экономике?
 - а) конкуренция
 - б) централизованное планирование
 - в) частная собственность
 - г) свобода предпринимательского выбора

2. Если увеличение выпуска продукции с 1000 до 1500 шт. в месяц сопровождалось ростом численности рабочих на 20%, то производительность труда:
 - а) нельзя определить
 - б) выросла на 50 %
 - в) выросла на 20 %
 - г) выросла на 30 %
 - д) выросла на 25%

3. «Скрытая» форма инфляции, это:

- а) незначительный рост цен
- б) снижение покупательной способности населения
- в) дефицит товаров

4. При каких структурах рынка продукт может быть дифференцированным?

- а) при монополии и олигополии
- б) при совершенной и при монополистической конкуренции
- в) при совершенной конкуренции и при олигополии;
- г) при монополистической конкуренции и при олигополии.

5. Объем выпуска фирмы в неделю – 20 штук товара. Затраты составляют: сырье – 200 тыс.руб., аренда помещения – 100 тыс.руб., зарплата производственных рабочих – 800 тыс. руб., амортизация оборудования – 100 тыс. руб., зарплата менеджеров – 500 тыс. руб. Средние постоянные издержки фирмы равны ... (тыс.руб.)

- а) 35 б) 50 в) 60 г) 85

Контрольная работа. Вариант «Е (Ё)»

Теоретический вопрос

Заработная плата. Формы и системы заработной платы.

Задача

Спрос на товар определен функцией $Q_d = 100 - p$. Предложение товара определено функцией $Q_s = -50 + 2p$. (где Q_d – объем спроса, Q_s – объем предложения, p – цена).

Построить график. Определить равновесную цену и равновесный объем продаж. Определите величину избытка (дефицита), при условии установления фиксированной цены равной 40 ден. ед. Решение представить графически и аналитически. Каким образом на рынке данного товара может восстановиться равновесие?

Контрольные тесты

1. Кто впервые использовал термин «Политическая экономия»?
 - а) Аристотель
 - б) Адам Смит
 - в) Антуан де Монкретьен
 - г) Альфред Маршалл.

2. Что из перечисленного ниже не влияет на рост производительности труда?
 - а) технологические изменения
 - б) увеличение количества работников
 - в) уровень образования и квалификации работников
 - г) изменения в организации труда

3. Один из эффектов неожиданной инфляции состоит в том, что богатство перераспределяется:
 - а) от заемщика к кредитору
 - б) от кредитора к заемщику
 - в) от молодых людей к старым
 - г) от государства к фирмам

4. Какой из нижеперечисленных примеров можно отнести к рынку монополистической конкуренции:
 - а) на рынке оперирует большое количество поставщиков, каждый из которых предлагает фирменную обувь по относительно схожим ценам
 - б) на рынке оперирует единственный поставщик телекоммуникационных услуг
 - в) большое количество фермеров предлагает на рынке картофель по одинаковым ценам
 - г) несколько крупных фирм функционирует на рынке автомобильных шин
 - д) имеется единственный покупатель угледобывающего оборудования

5. Экономические издержки предприятия составляют 80% от общей выручки. Как изменилась экономическая прибыль, если затраты удалось уменьшить в 2 раза, а рыночная цена товара осталась прежней?

- а) уменьшилась в 2 раза
- б) не изменилась
- в) увеличилась в 2 раза
- г) увеличилась в 3 раза

Контрольная работа. Вариант «Ж»

Теоретический вопрос

Сущность и роль рынка совершенной конкуренции.

Задача

Спрос на товар определен функцией $Q_d = 50 - p$. Предложение товара определено функцией $Q_s = 2p - 10$. (где Q_d – объем спроса, Q_s – объем предложения, p – цена).

Построить график. Определить равновесную цену и равновесный объем продаж. Определите величину избытка (дефицита), при условии установления фиксированной цены равной 30 ден. ед. Решение представить графически и аналитически. Каким образом на рынке данного товара может восстановиться равновесие?

Контрольные тесты

1. В каком из вариантов ответа включены основные вопросы экономики?
 - а) что производится, как производится, кем потребляется
 - б) что потребляется, как производится, кто производит
 - в) что производится, как потребляется, кто производит
 - г) что потребляется, как производится, кто потребляет

2. Какая профессия предполагает сдельную оплату труда?
 - а) сторож
 - б) рабочий конвейера
 - в) швея-мотористка
 - г) няня для ребенка

3. Деньги не выступают в качестве ...

- а) единицы счета
- б) запаса ценности
- в) средства управления
- г) средства обращения

4. Предприниматель взял ссуду в банке на год в размере 1 000 000 рублей под 15% годовых. По итогам года он получил общий доход 1 160 000 рублей. Экономическая прибыль составила:

- а) 160 тыс.руб.
- б) 150 тыс.руб.
- в) 10 тыс.руб.
- г) убыток 10 тыс.руб.
- д) другой ответ

5. Характер эффекта масштаба определяется ...

- а) величиной постоянных издержек
- б) знаком величины предельного дохода
- в) наклоном кривой долгосрочных средних издержек
- г) эластичностью спроса на товар

Контрольная работа. Вариант «З»

Теоретический вопрос

Субъекты и объекты рыночной экономики. Классификации рынков.

Задача

Спрос на товар определен функцией $Q_d = 9 - p$. Предложение товара определено функцией $Q_s = -3 + 2p$. (где Q_d – объем спроса, Q_s – объем предложения, p – цена).

Построить график. Определить равновесную цену и равновесный объем продаж. Определите величину избытка (дефицита), при условии установления фиксированной цены равной 5 ден. ед. Решение представить графически и аналитически. Каким образом на рынке данного товара может восстановиться равновесие?

Контрольные тесты

1. К косвенным налогам относят:

- а) подоходный налог
- б) налог на добавленную стоимость
- в) налог на прибыль
- г) налог на недвижимость
- д) инфляционный налог

2. Деньги выполняют функцию:

- а) фактора производства
- б) средства защиты от инфляции
- в) средства накопления
- г) средства увеличения дохода

3. Под инфляцией понимается...

- а) падение уровня жизни
- б) снижение стоимости жизни
- в) рост покупательной способности денег
- г) переполнение каналов денежного обращения денежной массой

4. Какое из перечисленных ниже утверждений не относится к рынку совершенной конкуренции?

- а) наличие на рынке большого количества продавцов продукции;
- б) неспособность отдельного продавца повлиять на рыночную цену;
- в) полная свобода входа и выхода с рынка для продавцов;
- г) продукция, продаваемая на рынке, дифференцирована по свойствам и качеству.

5. Затраты фирмы на выпуск продукции составляют: сырьё – 200 ден.ед., аренда помещения – 100 ден.ед., зарплата рабочим 800 ден.ед., амортизация оборудования – 100 ден.ед., оплата труда топ-менеджмента 500 ден.ед. Переменные издержки равны:

- а) 700 ден.ед.
- б) 800 ден.ед.
- в) 1000 ден.ед.
- г) 1700 ден.ед.

Контрольная работа. Вариант «И»

Теоретический вопрос

Сущность и виды монополий. Характерные черты монопольного рынка.

Задача

Спрос на товар определен функцией $Q_d = 12 - 2p$. Предложение товара определено функцией $Q_s = -4 + 2p$. (где Q_d – объем спроса, Q_s – объем предложения, p – цена).

Построить график. Определить равновесную цену и равновесный объем продаж. Определите величину избытка (дефицита), при условии установления фиксированной цены равной 5 ден. ед. Решение представить графически и аналитически. Каким образом на рынке данного товара может восстановиться равновесие?

Контрольные тесты

1. Что из данного перечня является неэкономическим благом?

- а) подводная лодка
- б) знания
- в) досуг и развлечения
- г) энергия ветра

2. К характеристикам повременной заработной платы относится высказывание, что она ...

- а) используется там, где невозможно определить результат труда в натуральном счете
- б) используется там, где производство продукции определяется в натуральном счете
- в) не используется в материальном производстве
- г) не предполагает премиальные выплаты

3. За два года цены выросли в 1,21 раза. Определить среднегодовую инфляцию.

- а) 21%
- б) 11,5 %
- в) 10 %
- г) 5 %

4. Что из перечисленного ниже не влияет на рост производительности труда?

- а) технологические изменения
- б) увеличение количества работников
- в) уровень образования и квалификации работников
- г) изменения в организации труда

5. Если AVC (средние переменные издержки) растут по мере роста объема производства, то:

- а) AFC должны расти;
- б) MC должны сокращаться;
- в) MC должны быть ниже AVC;
- г) MC должны быть выше AVC.

Контрольная работа. Вариант «К»

Теоретический вопрос

Сущность и характерные черты рынка олигополии.

Задача

Спрос на товар определен функцией $Q_d = 16 - 2p$. Предложение товара определено функцией $Q_s = 1 + 0,5p$. (где Q_d – объем спроса, Q_s – объем предложения, p – цена).

Построить график. Определить равновесную цену и равновесный объем продаж. Определите величину избытка (дефицита), при условии установления фиксированной цены равной 4 ден. ед. Решение представить графически и аналитически. Каким образом на рынке данного товара может восстановиться равновесие?

Контрольные тесты

1. Что из перечисленного ниже, скорее всего не будет отнесено к общественным товарам и услугам?

- а) услуги городской пожарной охраны
- б) система защиты города от наводнений
- в) освещение квартир
- г) освещение улиц

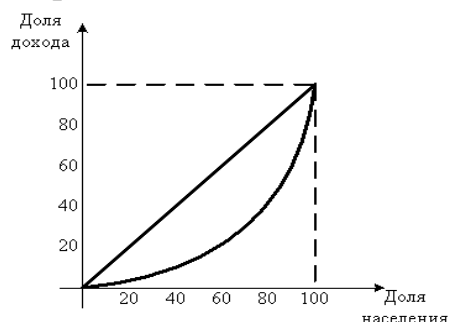
2. На некотором рынке рабочей силы спрос на труд выражается зависимостью $L_d = 160 - 2W$, а предложение труда $L_s = -40 + 3W$ (L_d - объем спроса на труд, L_s - объем предложения труда, W -ставка заработной платы). Установление минимальной оплаты труда в размере 35 руб/ч приведет к дефициту рабочей силы в количестве... человек.

- а) 5
- б) 10
- в) 15
- г) 20
- д) 25

3. Инфляция за два года составила 44 %. Определить среднегодовую инфляцию.

- а) 20 %
- б) 22 %
- в) 44 %
- г) 72%

4. На рисунке показана кривая Лоренца. Если правительство вводит прогрессивное налогообложение на доходы физических лиц, то кривая Лоренца сдвигается ...



- а) влево, увеличивая неравенство в обществе
- б) влево, уменьшая неравенство в обществе
- в) вправо, уменьшая неравенство в обществе
- г) вправо, увеличивая неравенство в обществе
- д) другой ответ

5. Какая из перечисленных линий издержек никогда не принимает U-образной формы:

- а) MC
- б) ATC
- в) AVC
- г) AFC
- д) AC

Контрольная работа. Вариант «Л»

Теоретический вопрос

Капитал как экономический ресурс. Структура капитала. Понятие амортизации.

Задача

Спрос на товар определен функцией $Q_d = 14 - 2p$. Предложение товара определено функцией $Q_s = 4p - 10$. (где Q_d – объем спроса, Q_s – объем предложения, p – цена).

Построить график. Определить равновесную цену и равновесный объем продаж. Определите величину избытка (дефицита), при условии установления фиксированной цены равной 6 ден. ед. Решение представить графически и аналитически. Каким образом на рынке данного товара может восстановиться равновесие?

Контрольные тесты

1. Наибольшей ликвидностью обладает:

- а) банкнота
- б) автомобиль
- в) государственная облигация
- г) недвижимость

2. Номинальной заработной платой является...

- а) сумма премии, начисленная работнику
- б) сумма подоходного налога, уплаченная работником
- в) количество товаров и услуг, которые можно купить на деньги, полученные от продажи рабочей силы с учетом их покупательной способности
- г) сумма денег, полученная работником

3. Инфляция за два года составила 21 %. Определить среднегодовой индекс цен.

- а) 1,15
- б) 11,5
- в) 10
- г) 1,1

4. Высокие входные барьеры в отрасль характерны для рынка:

- а) свободной конкуренции
- б) совершенной конкуренции
- в) монополистической конкуренции
- г) олигополии

5. Постоянные издержки фирмы равны 400 ден. ед. Количество выпускаемой продукции - 50 штук. Определить средние переменные издержки, если общие издержки равны 1400 ден. ед.

- а) 8
- б) 20
- в) 28
- г) 36

Контрольная работа. Вариант «М»

Теоретический вопрос

Конкуренция и ее виды. Типы рыночных структур.

Задача

Спрос на товар определен функцией $Q_d = 6 - 0,5p$.
Предложение товара определено функцией $Q_s = -2 + 0,5p$. (где Q_d – объем спроса, Q_s – объем предложения, p – цена).

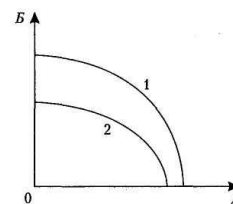
Построить график. Определить равновесную цену и равновесный объем продаж. Определите величину избытка (дефицита), при условии установления фиксированной цены равной 10 ден. ед.

Решение представить графически и аналитически. Каким образом на рынке данного товара может восстановиться равновесие?

Контрольные тесты

1. Если кривая производственных возможностей сдвинулась из положения 1 в положение 2, то это означает, что в стране:

- а) упала эффективность производства товара А
- б) возросла эффективность производства товара Б
- в) экономика страны лишилась части своих ресурсов
- г) возросла безработица



2. Стоимость приобретенного фирмой оборудования 10 тысяч ден. ед. Нормативный срок его службы 5 лет. Сколько будет стоить это оборудование спустя три года службы?

- а) в три раза дешевле
- б) в два раза дешевле
- в) 4 тысячи ден.ед.
- г) 6 тысяч ден.ед.
- д) 10 тысяч ден.ед.

3. Какую фазу экономического цикла характеризует показатель прироста ВВП равный (-3%)?

- а) подъем
- б) оживление
- в) депрессия
- г) кризис

4. Переход предприятий из рук частных предпринимателей в государственную собственность составляет суть

- а) национализации
- б) инфляции
- в) приватизации
- г) разгосударствления
- д) монополизации

5. Экономические издержки:

- а) включают в себя явные и неявные издержки, в том числе нормальную прибыль
- б) включают в себя явные издержки, но не включают неявные
- в) включают в себя неявные издержки, но не включают явные
- г) включают в себя явные и неявные издержки без учета нормальной прибыли

Контрольная работа. Вариант «Н»

Теоретический вопрос

Сущность и характерные черты рынка монополистической конкуренции.

Задача

Спрос на товар определен функцией $Q_d = 14 - 2p$. Предложение товара определено функцией $Q_s = -4 + 2p$. (где Q_d – объем спроса, Q_s – объем предложения, p – цена).

Построить график. Определить равновесную цену и равновесный объем продаж. Определите величину избытка (дефицита), при условии установления фиксированной цены равной 5,5 ден. ед. Решение представить графически и аналитически.

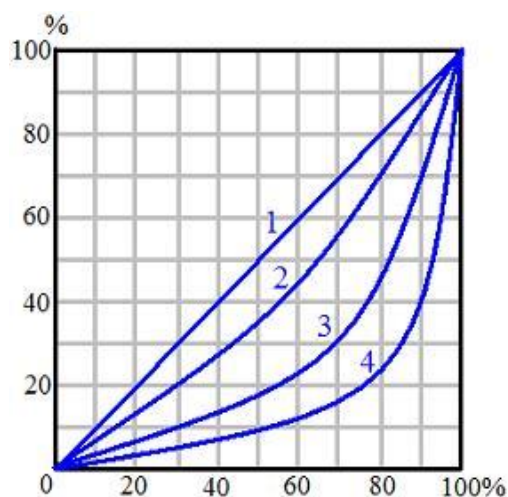
Каким образом на рынке данного товара может восстановиться равновесие?

Контрольные тесты

1. Экономические отношения – это:

- а) отношения между людьми, складывающиеся в процессе производства, распределения, обмена и потребления материальных благ
- б) отношения, складывающиеся в политической, социальной и духовной жизни общества
- в) отношения между людьми, связанные с их повседневной жизнью
- г) отношения, складывающиеся между странами

2. На рисунке изображены кривые Лоренца. Рассмотрите линию 4. Каким процентом доходов владеют 10 % богатых?



- а) 2
- б) 10
- в) 60
- г) 90
- д) нельзя определить

3. В первый год цены выросли на 7%, во второй год цены выросли на 11 %, в третий год цены выросли на 12 %. Определить инфляцию за три года.

- а) 33%
- б) 30%
- в) 133%
- г) 130%

4. К «безработным» можно отнести:

- а) нетрудоспособное население
- б) трудоспособное население, не желающее иметь работу
- в) трудоспособное население, не имеющее работу, но активно ее ищущее
- г) трудоспособное население, имеющее работу
- д) пенсионеров

5. Если постоянные издержки 100 д.е., средние переменные издержки 20 д.е., а средние общие издержки 30 д.е., то объем выпуска равен:

- а) 5; б) 10; в) 20; г) 100; д) нельзя определить.

Контрольная работа. Вариант «О»

Теоретический вопрос

Налоговая система. Виды налогов.

Задача

Спрос на товар определен функцией $Q_d = 36 - 2p$. Предложение товара определено функцией $Q_s = -4 + 3p$. (где Q_d – объем спроса, Q_s – объем предложения, p – цена).

Построить график. Определить равновесную цену и равновесный объем продаж. Определите величину избытка (дефицита), при условии установления фиксированной цены равной 11 ден. ед. Решение представить графически и аналитически.

Каким образом на рынке данного товара может восстановиться равновесие?

Контрольные тесты

1. Для традиционной экономической системы характерно ...

- а) универсальный характер труда и производства
- б) специализация производства
- в) планомерное развитие экономики
- г) открытость экономических связей

2. Примером естественной монополии является:

- а) картель «Семь сестер»
- б) журнал «Вопросы экономики»
- в) организация ОПЕК
- г) метрополитен

3. Определить среднегодовой индекс цен, если инфляция за два года составила 69%.

- а) 34,5 %
- б) 1,345
- в) 1,3
- г) 0,845

4. Субъектами рыночной экономики являются:

- а) отдельные рынки
- б) домохозяйства, политические партии, фирмы
- в) домохозяйства, социальные группы, государство
- г) домохозяйства, государство, фирмы
- д) домохозяйства и государство

5. Рыночная цена товара 100 рублей. Средние издержки – 80 рублей. Как изменится прибыль, если новая технология позволит сократить издержки на 25%?

- а) не изменится;
- б) увеличится на 25%
- в) увеличится в 2 раза
- г) увеличится в 3 раза
- д) увеличится в 4 раза

Контрольная работа. Вариант «П»

Теоретический вопрос

Экономический рост. Показатели и типы экономического роста.

Задача

Спрос на товар определен функцией $Q_d = 90 - p$. Предложение товара определено функцией $Q_s = 3p - 30$. (где Q_d – объем спроса, Q_s – объем предложения, p – цена).

Построить график. Определить равновесную цену и равновесный объем продаж. Определите величину избытка (дефицита), при условии установления фиксированной цены равной 35 ден. ед. Решение представить графически и аналитически.

Каким образом на рынке данного товара может восстановиться равновесие?

Контрольные тесты

1. Что не относится к условиям построения кривой производственных возможностей:
 - а) технология под влиянием НТП изменяется
 - б) экономика использует свои ресурсы в полном объеме
 - в) экономика производит только 2 продукта
 - г) количество и качество ресурсов неизменно

2. Какую фазу экономического цикла характеризует показатель прироста ВВП равный 0%?
 - а) кризис
 - б) депрессия
 - в) оживление
 - г) подъем

3. Определите уровень циклической безработицы, если уровень фрикционной безработицы составил 3%, естественный уровень безработицы 5%, а фактический уровень безработицы 9%.

а) 1% б) 2% в) 3% г) 4% д) 5%

4. Какое из перечисленных ниже предприятий является примером естественной монополии?
 - а) автомобильный завод
 - б) частный медицинский диагностический центр
 - в) городской водоканал
 - г) сеть магазинов
 - д) продовольственный рынок

5. В долгосрочном периоде:

- а) все издержки постоянны
- б) издержки переменны
- в) переменные издержки растут быстрее, чем постоянные
- г) постоянные издержки растут быстрее, чем переменные
- д) другой ответ

Контрольная работа. Вариант «Р»

Теоретический вопрос

Отношения собственности. Понятие и типы экономических систем.

Задача

Спрос на товар определен функцией $Q_d = 100 - p$. Предложение товара определено функцией $Q_s = -50 + 2p$. (где Q_d – объем спроса, Q_s – объем предложения, p – цена).

Построить график. Определить равновесную цену и равновесный объем продаж. Определите величину избытка (дефицита), при условии установления фиксированной цены равной 60 ден. ед. Решение представить графически и аналитически.

Каким образом на рынке данного товара может восстановиться равновесие?

Контрольные тесты

1. В экономике, функционирующей в условиях полной занятости и полного использования других ресурсов на постоянной технологической основе:

- а) для увеличения производства средств производства необходимо расширить производство предметов потребления
- б) для сокращения производства средств производства необходимо уменьшить производство предметов потребления
- в) увеличение производства средств производства невозможно
- г) для увеличения производства средств производства нужно сократить производство предметов потребления

2. Производственный цикл на предприятии 1 год. Стоимость оборудования 8000 д.е., нормативный срок службы 4 года. Стоимость сырья и материалов 4000 д.е. Заработная плата 5000 д.е. Прибыль 2000 д.е. Издержки равны:

- а) 8000 б) 10000 в) 11000 г) 13000 д) 19000

3. Номинальный ВВП увеличился на 15,5% по отношению в базовому году. При этом инфляция составила 10%. Экономический рост составил

- а) 105% б) 105,5% в) 90% г) 94,5%

4. Правительственная политика в области налогообложения называется:

- а) монетарной политикой
б) деловым циклом
в) фискальной политикой
г) кредитно-денежной политикой

5. Если фирма увеличивает затраты на ресурсы на 10%, а объем производства возрастает при этом на 15%, то в этом случае:

- а) наблюдается положительный эффект масштаба
б) наблюдается отрицательный эффект масштаба
в) наблюдается эффект постоянной отдачи
г) фирма получает максимальную прибыль

Контрольная работа. Вариант «С»

Теоретический вопрос

Ставка процента и факторы, влияющие на ее величину. Простой и сложный процент.

Задача

Спрос на товар определен функцией $Q_d = 50 - p$. Предложение товара определено функцией $Q_s = -10 + 2p$, (где Q_d – объем спроса, Q_s – объем предложения, p – цена).

Построить график. Определить равновесную цену и равновесный объем продаж. Определите величину избытка (дефицита), при условии установления фиксированной цены равной 15 ден. ед. Решение представить графически и аналитически. Каким образом на рынке данного товара может восстановиться равновесие?

Контрольные тесты

1. Адам Смит – представитель

- а) школы меркантилистов
- б) школы физиократов
- в) классической политической экономии
- г) маржинализма

2. Возмещение стоимости изношенного оборудования осуществляется путем создания фонда.....

- а) накопления
- б) амортизации
- в) потребления
- г) страховых резервов

3. Какую фазу экономического цикла характеризует показатель прироста ВВП равный (1%) по отношению к предыдущему году и (0%) по отношению к базовому (предкризисному) году?

- а) кризис
- б) депрессия
- в) оживление
- г) подъем

4. Уровень занятости определяется через отношение:

- а) количества занятых к численности населения
- б) количества занятых к количеству безработных
- в) количества безработных к численности трудоспособного населения
- г) количества занятых к численности трудоспособного населения

5. Себестоимость единицы товара равна 75 ден.ед. Определите уровень цены товара, обеспечивающий рентабельность 60%.

- а) 75 ден. ед.
- б) 120 ден. ед.
- в) 125 ден. ед.
- г) 150 ден. ед.

Контрольная работа. Вариант «Т»

Теоретический вопрос

Теория издержек производства. Внешние и внутренние издержки. Виды прибыли.

Задача

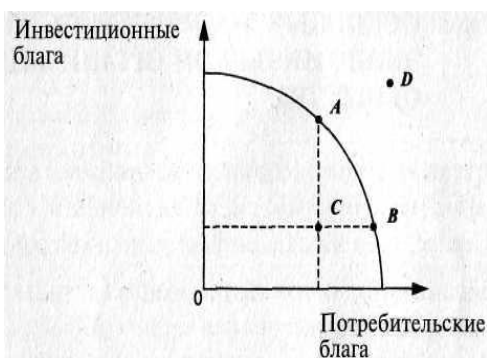
Спрос на товар определен функцией $Q_d = 9 - p$. Предложение товара определено функцией $Q_s = -3 + 2p$. (где Q_d – объем спроса, Q_s – объем предложения, p – цена).

Построить график. Определить равновесную цену и равновесный объем продаж. Определите величину избытка (дефицита), при условии установления фиксированной цены равной 3 ден. ед. Решение представить графически и аналитически.

Каким образом на рынке данного товара может восстановиться равновесие?

Контрольные тесты:

1. Рассмотрите представленную кривую производственных возможностей. Какой экономический смысл заключается в движении от точки В к точке С?



- а) уменьшение производства инвестиционных благ вследствие снижения занятости ресурсов
- б) уменьшение производства потребительских благ вследствие сокращения ресурсов
- в) увеличение производства инвестиционных благ вследствие роста занятости ресурсов
- г) движение невозможно при имеющихся ресурсах

2. В нашем распоряжении имеется 2 млн. руб. Есть возможность вложения данной суммы на банковский счет, ставка по которому составляет 10% годовых. При начислении сложного процента и возможности снять проценты только в конце срока по договору, через три года на счету будет ...

- а) 2 600 000
- б) 6 000 000
- в) 2 662 000
- г) 2 660 000
- д) 2 200 000

3. Индекс потребительских цен составил 0,96. Это значит, что инфляция равна:

- а) – 4% б) 4% в) 0,04% г) – 0,04% д) -96% е) 96%

4. В условиях полной занятости:

- а) уровень структурной безработицы меньше, чем уровень фрикционной безработицы
- б) уровень безработицы равен нулю
- в) все трудоспособное население имеет работу
- г) имеет место фрикционная и структурная безработица

5. На каком рынке рекламные акции обязательны и играют важную роль?

- а) совершенной конкуренции
- б) монополистической конкуренции
- в) олигополии
- г) абсолютной монополии

Контрольная работа. Вариант «У»

Теоретический вопрос:

Основные макроэкономические показатели.

Задача:

Спрос на товар определен функцией $Q_d = 12 - 2p$. Предложение товара определено функцией $Q_s = 2p - 4$. (где Q_d – объем спроса, Q_s – объем предложения, p – цена).

Построить график. Определить равновесную цену и равновесный объем продаж. Определите величину избытка (дефицита), при условии

установления фиксированной цены равной 3 ден. ед. Решение представить графически и аналитически.

Каким образом на рынке данного товара может восстановиться равновесие?

Контрольные тесты:

1. Что из перечисленного может рассматриваться как нерыночная деятельность:

- а) рекламные объявления в газете
- б) приготовление пищи в домашнем хозяйстве
- в) закупки государством военной техники
- г) выращивание клубники на приусадебном участке для продажи

2. Банк предлагал ставку по депозитному вкладу 14% годовых. Уровень инфляции за год составил 20%. Реальная ставка процента равна:

- а) - 6% б) - 5% в) 5% г) 6% д) 34%

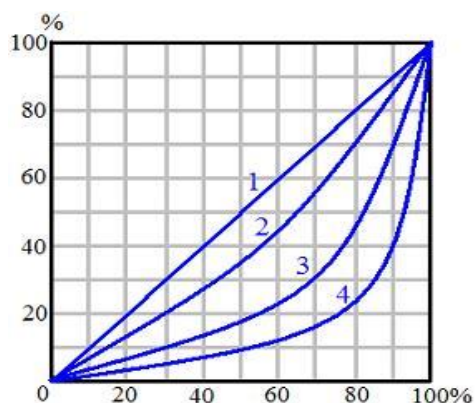
3. Инфляция спроса, это:

- а) снижение совокупного спроса
- б) рост совокупного спроса
- в) слишком много денег «охотятся» за малым количеством товара
- г) рост затрат на сырье

4. Какой из нижеперечисленных примеров можно отнести к рынку монополистической конкуренции:

- а) на рынке оперирует большое количество поставщиков, каждый из которых предлагает фирменную обувь по относительно схожим ценам
- б) на рынке оперирует единственный поставщик телекоммуникационных услуг
- в) большое количество фермеров предлагает на рынке картофель по одинаковым ценам
- г) несколько крупных фирм функционирует на рынке автомобильных шин
- д) имеется единственный покупатель угледобывающего оборудования

5. На рисунке изображены кривые Лоренца. Рассмотрите линию 3. Каким процентом доходов владеют 10 % богатых?



- а) 10
- б) 30
- в) 60
- г) 90
- д) нельзя определить

Контрольная работа. Вариант «Ф»

Теоретический вопрос:

Издержки производства в краткосрочном периоде.

Задача:

Спрос на товар определен функцией $Q_d = 16 - 2p$. Предложение товара определено функцией $Q_s = 1 + 0,5p$. (где Q_d – объем спроса, Q_s – объем предложения, p – цена).

Построить график. Определить равновесную цену и равновесный объем продаж. Определите величину избытка (дефицита), при условии установления фиксированной цены равной 2 ден. ед. Решение представить графически и аналитически.

Каким образом на рынке данного товара может восстановиться равновесие?

Контрольные тесты:

1. В рыночной экономике ответ на вопрос о том, какие товары и услуги должны производиться в конечном итоге определяется:

- а) потребителями
- б) производителями
- в) органами государственного управления
- г) иностранными инвесторами

2. Стоимость оборудования 2100 тыс. рублей. Нормативный срок службы 7 лет. Фирма принимает решение об ускоренной амортизации оборудования за три года. При этом норма амортизации каждого последующего года в два раза меньше предыдущего. Ликвидационную стоимость считать равной 0. Определить величину амортизационных отчислений в первый год.

- а) 300 б) 700 в) 1200 г) 1400 д) 1700

3. Как называется экономическая политика, если ее инструментами являются налоги и государственные расходы?

- а) валютная
б) монетарная
в) фискальная
г) инвестиционная
д) антимонопольная

4. Дефицит государственного бюджета имеет место в том случае, когда:

- а) государственные расходы превышают доходы, получаемые государством
б) государственные расходы увеличиваются по сравнению с предыдущим годом
в) государственные расходы уменьшаются по сравнению с предыдущим годом
г) сокращаются налоги

5. Если уровень фактической безработицы превышает естественный уровень безработицы, то:

- а) потенциальный ВВП ниже реального ВВП
б) потенциальный ВВП равен реальному ВВП
в) потенциальный ВВП выше реального ВВП
г) отсутствует циклическая безработица

Контрольная работа. Вариант «Х»

Теоретический вопрос:

Издержки производства в долгосрочном периоде. Эффекты масштаба.

Задача:

Спрос на товар определен функцией $Q_d = 14 - 2p$. Предложение товара определено функцией $Q_s = -4 + 2p$. (где Q_d – объем спроса, Q_s – объем предложения, p – цена).

Построить график. Определить равновесную цену и равновесный объем продаж. Определите величину избытка (дефицита), при условии установления фиксированной цены равной 6 ден. ед. Решение представить графически и аналитически.

Каким образом на рынке данного товара может восстановиться равновесие?

Контрольные тесты:

1. В каком варианте факторные доходы названы правильно?
 - а) заработная плата, рента, дивиденд, предпринимательский доход
 - б) прибыль, процент, предпринимательский доход, рента
 - в) заработная плата, процент, прибыль, рента
 - г) заработная плата, предпринимательский доход, процент, рента

2. Чтобы получить через год 100 тысяч рублей, сегодня достаточно положить на депозит (при рыночной ставке процента, равной 10%)...
 - а) 100 000 руб.
 - б) 90 000 руб.
 - в) 89 000 руб.
 - г) 91 000 руб.

3. «Скрытая» форма инфляции проявляется в:
 - а) незначительном росте цен
 - б) снижении покупательной способности населения
 - в) дефиците товаров

4. Какое из перечисленных ниже утверждений не относится к рынку совершенной конкуренции?
 - а) наличие на рынке большого количества продавцов продукции

- б) неспособность отдельного продавца повлиять на рыночную цену
- в) полная свобода входа на рынок для продавцов
- г) продукция, продаваемая на рынке, дифференцирована по свойствам и качеству.

5. Уровень безработицы при полной занятости

- а) равен сумме уровней структурной и фрикционной безработицы
- б) равен сумме уровней фрикционной и циклической безработицы
- в) равен сумме уровней структурной и циклической безработицы
- г) равен нулю

Контрольная работа. Вариант «Ц»

Теоретический вопрос:

Экономические модели. Модель «Граница производственных возможностей»

Задача:

Спрос на товар определен функцией $Q_d = 36 - 2p$.
Предложение товара определено функцией $Q_s = -4 + 3p$. (где Q_d – объем спроса, Q_s – объем предложения, p – цена).

Построить график. Определить равновесную цену и равновесный объем продаж. Определите величину избытка (дефицита), при условии установления фиксированной цены равной 10 ден. ед. Решение представить графически и аналитически.

Каким образом на рынке данного товара может восстановиться равновесие?

Контрольные тесты:

1. Экономические законы отличаются от законов природы тем, что они ...
 - а) действуют независимо от воли и сознания людей
 - б) реализуются через практическую деятельность людей
 - в) создаются людьми и используются ими в практической деятельности
 - г) устанавливаются государством для регулирования экономики

2. Собственник участка земли получал ежегодную ренту 5000 евро. При какой ставке банковского процента при продаже участка земли по цене 62500 евро продавец участка земли не окажется в проигрыше?

- а) 5% б) 6% в) 7% г) 8% д) 9%

3. «Инфляционный налог», который платит работник из своей зарплаты, это:

- а) разница между номинальной и реальной зарплатой
б) разница между реальной и номинальной зарплатой
в) отношение номинальной зарплаты к уровню инфляции

4. Какой из показателей не участвует в расчете дефлятора?

- а) ВВП номинальный
б) ВВП реальный
в) ВВП потенциальный
г) ВВП в текущих ценах

5. Себестоимость единицы товара 60 рублей. При какой рыночной цене товара рентабельность составит 40%?

- а) 60 б) 84 в) 100 г) 108 д) другой ответ

Контрольная работа. Вариант «Ч»

Теоретический вопрос:

Рыночная экономика: условия возникновения, сущность, преимущества и недостатки.

Задача:

Спрос на товар определен функцией $Q_d = 6 - 0,5p$. Предложение товара определено функцией $Q_s = -2 + 0,5p$. (где Q_d – объем спроса, Q_s – объем предложения, p – цена).

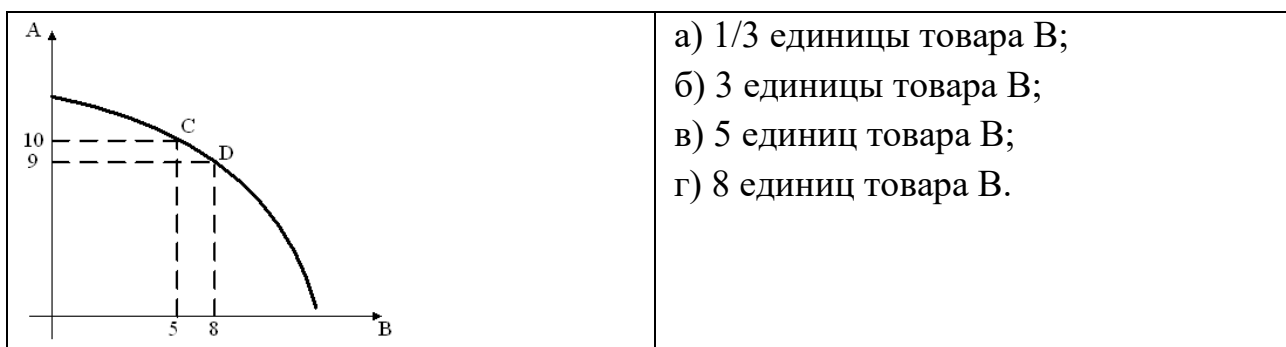
Построить график. Определить равновесную цену и равновесный объем продаж. Определите величину избытка (дефицита), при условии

установления фиксированной цены равной 6 ден. ед. Решение представить графически и аналитически.

Каким образом на рынке данного товара может восстановиться равновесие?

Контрольные тесты:

1. На основании данных модели кривой производственных возможностей экономики определите альтернативные издержки производства единицы товара А, если экономика находится в точке D



2. Земельный участок приносит ежегодный доход 100 000 руб. Годовая ставка банковского процента 10%. Цена этого участка как бессрочного (вечного) капитального актива равна...

- а) 10 000 руб.
- б) 100 000 руб.
- в) 1 000 000 руб.
- г) 110 000 руб.

3. Один из эффектов неожиданной инфляции состоит в том, что богатство перераспределяется:

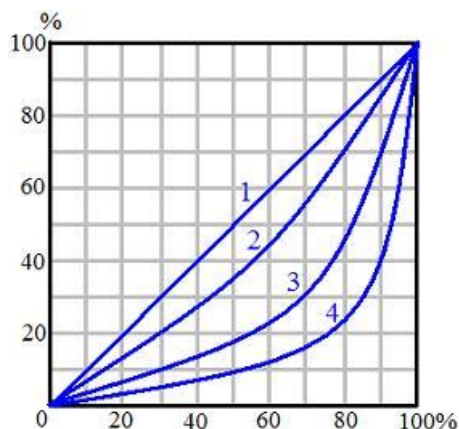
- а) от заемщика к кредитору
- б) от кредитора к заемщику
- в) от молодых людей к старым
- г) от государства к фирмам

4. Функцией коммерческого банка не является:

- а) расчеты с фирмами
- б) выдача кредитов

- в) эмиссия денег
- г) операции с ценными бумагами
- д) валютные операции

5. На рисунке изображены кривые Лоренца. Рассмотрите линию 2. Каким процентом доходов владеют 30% бедных?



- а) 10
- б) 20
- в) 30
- г) 50
- д) нельзя определить

Контрольная работа. Вариант «Ш»

Теоретический вопрос:

Цикличность развития экономики. Виды циклов. Фазы цикла.

Задача:

Спрос на товар определен функцией $Q_d = 14 - 2p$. Предложение товара определено функцией $Q_s = 4p - 10$. (где Q_d – объем спроса, Q_s – объем предложения, p – цена).

Построить график. Определить равновесную цену и равновесный объем продаж. Определите величину избытка (дефицита), при условии установления фиксированной цены равной 4,5 ден. ед. Решение представить графически и аналитически.

Каким образом на рынке данного товара может восстановиться равновесие?

Контрольные тесты:

1. Характеристикой экономического блага выступает:

- а) способность удовлетворять потребности
- б) редкость

- в) ценность
- г) верно все указанное

2. Земельный участок приносит 400 ден. ед. земельной ренты. Норма ссудного процента равна 5% в год. Тогда цена земельного участка будет равна...

- а) 8000 б) 4000 в) 2000 г) 420 д) 400

3. Как изменилась скорость обращения денег, если денежная масса выросла на 8%, объем производства упал на 10%, а индекс цен составил 1,2?

- а) уменьшилась на 20%
- б) осталась без изменения
- в) увеличилась на 10%
- г) увеличилась на 18%

4. Что из нижеперечисленного может рассматриваться как нерыночная деятельность:

- а) рекламные объявления в газете
- б) приготовление пищи в домашнем хозяйстве
- в) закупки государством военной техники
- г) выращивание клубники на приусадебном участке для продажи

5. Если конкурентная фирма имеет нулевую экономическую прибыль, то:

- а) это средняя, равновесная фирма
- б) это отстающая фирма в отрасли
- в) это передовая фирма в отрасли
- г) фирма находится на грани банкротства

Контрольная работа. Вариант «Щ»

Теоретический вопрос:

Национальная экономика. Цели национальной экономики.

Задача:

Спрос на товар определен функцией $Q_d = 90 - p$. Предложение товара определено функцией $Q_s = -30 + 3p$. (где Q_d – объем спроса, Q_s – объем предложения, p – цена).

Построить график. Определить равновесную цену и равновесный объем продаж. Определите величину избытка (дефицита), при условии установления фиксированной цены равной 25 ден. ед. Решение представить графически и аналитически.

Каким образом на рынке данного товара может восстановиться равновесие?

Контрольные тесты:

1. Субъектами рыночной экономики являются:

- а) отдельные рынки
- б) домохозяйства, политические партии, фирмы
- в) домохозяйства, социальные группы, государство
- г) домохозяйства, государство, фирмы.

2. Постоянными издержками являются расходы на

- а) заработную плату производственным рабочим
- б) оплату аренды помещения
- в) сырье
- г) электроэнергию

3. Если численность трудоспособного населения страны составляет 80 млн. человек, численность безработных равна 3 млн. человек, а численность занятых 57 млн. человек, то фактический уровень безработицы составляет:

- а) 5%
- б) 5,26%
- в) 3,75%
- г) 13,04%
- д) другой ответ

4. Какое из перечисленных ниже утверждений является одной из характерных черт олигополии?

- а) наличие на рынке небольшого количества покупателей
- б) на рынке действует незначительное количество производителей
- в) на рынке отсутствует ценовая конкуренция
- г) на рынке отсутствует неценовая конкуренция

5. Покупательная способность денег в условиях инфляции:

- а) прямо пропорциональна темпу инфляции
- б) не изменяется
- в) может и повышаться, и снижаться
- г) снижается

Контрольная работа. Вариант «Э»

Теоретический вопрос:

Занятость и безработица. Виды и уровень безработицы. Закон Оукена.

Задача:

Спрос на товар определен функцией $Q_d = 100 - p$. Предложение товара определено функцией $Q_s = -50 + 2p$. (где Q_d – объем спроса, Q_s – объем предложения, p – цена).

Построить график. Определить равновесную цену и равновесный объем продаж. Определите величину избытка (дефицита), при условии установления фиксированной цены равной 35 ден. ед. Решение представить графически и аналитически.

Каким образом на рынке данного товара может восстановиться равновесие?

Контрольные тесты:

1. Доходом на фактор производства «предпринимательская способность» является:

- а) процент
- б) прибыль
- в) дивиденд
- г) зарплата
- д) рента

2. Рост коэффициента Джини говорит о(об)...

- а) приближении кривой Лоренца к биссектрисе
- б) экономическом росте
- в) усилении дифференциации доходов в обществе

г) уменьшении дифференциации доходов в обществе

3. Банк предлагал ставку по депозитному вкладу 14% в год. Уровень инфляции за год составил 20%. Реальная ставка процента равна:

а) - 6% б) - 5% в) 5% г) 6%

4. Формирование рыночных цен происходит за счет _____ конкуренции.

- а) межотраслевой
- б) монополистической
- в) неценовой
- г) внутриотраслевой

5. Прибыль составляет 20 процентов от цены. Как изменится прибыль, если издержки сократятся в 2 раза, а рыночная цена останется прежней?

- а) увеличится в 3 раза
- б) останется прежней
- в) увеличится в 2 раза
- г) увеличится в 1,4 раза

Контрольная работа. Вариант «Ю»

Теоретический вопрос:

Банковская система России. Роль и функции банков в рыночной экономике.

Задача:

Спрос на товар определен функцией $Q_d = 50 - p$. Предложение товара определено функцией $Q_s = 2p - 10$. (где Q_d – объем спроса, Q_s – объем предложения, p – цена).

Построить график. Определить равновесную цену и равновесный объем продаж. Определите величину избытка (дефицита), при условии установления фиксированной цены равной 25 ден. ед.

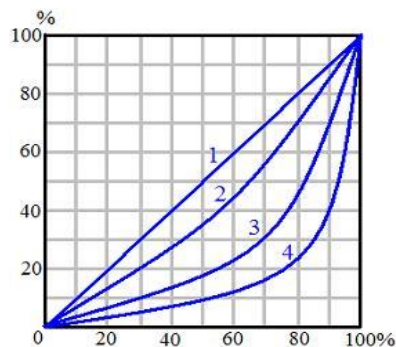
Решение представить графически и аналитически. Каким образом на рынке данного товара может восстановиться равновесие?

Контрольные тесты:

1. Если номинальная ставка процента равна 20% в год, а цены растут на 25% в год, то реальная процентная ставка равна

- а) -4% б) -5% в) 0% г) 5% д) 45%

2. Абсолютное равенство в распределении доходов в обществе отражает линия ...



- а) 1
б) 2
в) 3
г) 4

3. Бумажные деньги – это

- а) символические деньги
б) кредитные деньги
в) товарные деньги
г) электронные деньги

4. Успех на рынке совершенной конкуренции зависит от:

- а) рекламы
б) высокого качества товара
в) возможности влиять на цену товара
г) возможности снизить издержки

5. Блага, приобретение, которых требует определенных усилий это:

- а) полезные блага
б) экономические блага
в) свободные блага
г) только дефицитные блага

Контрольная работа. Вариант «Я»

Теоретический вопрос:

Причины, сущность, виды и последствия инфляции.

Задача:

Спрос на товар определен функцией $Q_d = 9 - p$. Предложение товара определено функцией $Q_s = -3 + 2p$. (где Q_d – объем спроса, Q_s – объем предложения, p – цена).

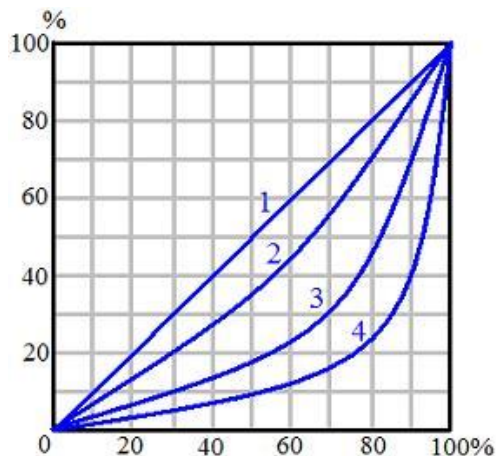
Построить график. Определить равновесную цену и равновесный объем продаж. Определите величину избытка (дефицита), при условии установления фиксированной цены равной 6 ден. ед. Решение представить графически и аналитически. Каким образом на рынке данного товара может восстановиться равновесие?

Контрольные тесты:

1. Альтернативная стоимость постоянна, если кривая производственных возможностей имеет:

- а) выпуклую форму
- б) вид прямой линии
- в) вогнутую форму
- г) вид луча из начала координат

2. На рисунке изображены кривые Лоренца. Рассмотрите линию 3. Каким процентом доходов владеют 30% беднейшего населения?



- а) 10
- б) 30
- в) 70
- г) нельзя определить

3. В условиях полной занятости:

- а) уровень фрикционной безработицы равен нулю
- б) отсутствует структурная безработица
- в) естественный уровень безработицы равен нулю
- г) нет циклической безработицы
- д) все работоспособное население имеет работу

4. Рыночная цена товара 100 рублей. Издержки 80 рублей. Как изменится прибыль, если новая технология позволит сократить издержки на 25%?

- а) не изменится
- б) увеличится на 25%
- в) увеличится в 2 раза
- г) увеличится в 4 раза

5. На каком рынке рекламные акции обязательны и играют важную роль?

- а) совершенной конкуренции
- б) монополистической конкуренции
- в) олигополии
- г) абсолютной монополии

3. Примерный перечень вопросов к экзамену по экономике

1. История возникновения и развития экономической науки.
2. Предмет экономики. Место экономической теории в системе экономических наук.
3. Методология познания экономических процессов. Экономические законы.
4. Отношения собственности. Понятие и типы экономических систем.
5. Потребности и ресурсы. Экономический выбор.
6. Экономические модели. Модель «Граница производственных возможностей»
7. Общественное производство. Производительные силы и производственные отношения. Факторы производства.
8. Рыночная экономика: условия возникновения, сущность, преимущества и недостатки.
9. Субъекты и объекты рыночной экономики. Классификации рынков.
10. Возникновение и сущность денег. Функции денег.
11. Закон спроса, Факторы, оказывающие влияние на спрос.
12. Закон предложения. Факторы, оказывающие влияние на предложение.
13. Рыночное равновесие и случаи его нарушения.
14. Эластичность спроса и предложения.
15. Теория издержек производства. Внешние и внутренние издержки.
16. Издержки производства в краткосрочном периоде.
17. Издержки производства в долгосрочном периоде. Эффекты масштаба.
18. Конкуренция и ее виды. Типы рыночных структур.
19. Сущность и роль рынка совершенной конкуренции.
20. Сущность и виды монополий. Основные черты монопольного рынка.
21. Сущность и особенности рынка олигополии.
22. Характеристика рынка монополистической конкуренции.
23. Особенности спроса и предложения на факторы производства. Производственная функция.
24. Рынок труда, его особенности и функции. Спрос и предложение на рынке труда.
25. Заработная плата. Формы и системы заработной платы.
26. Капитал как экономический ресурс. Структура капитала. Понятие амортизации.

27. Ставка процента и факторы, влияющие на ее величину. Простой и сложный процент.
28. Особенности рынка земли. Цена земли. Земельная рента и ее виды.
29. Предпринимательская способность как фактор производства. Сущность и виды прибыли.
30. Организационно-правовые формы бизнеса в России.
31. Национальная экономика. Цели национальной экономики. Модели национальной экономики.
32. Основные макроэкономические показатели.
33. Экономический рост. Показатели и типы экономического роста.
34. Цикличность развития экономики. Виды циклов. Фазы цикла.
35. Занятость и безработица. Виды и уровень безработицы. Закон Оукена.
36. Причины, сущность, виды и последствия инфляции.
37. Банковская система России. Роль и функции банков в рыночной экономике.
38. Налоговая система. Виды налогов.
39. Государственный бюджет, его структура. Дефицит госбюджета. Государственный долг.
40. Основные направления государственного регулирования экономики.

4. Рекомендуемая литература

а) основная литература.

1. [Нуралиев С.У.](#) Экономика: Учебник / С.У.Нуралиев, Д.С. Нуралиева. 2-е изд. испр. и доп. . - М.: Магистр, ИНФРА-М, 2023. - 363 с. - (ВО: Бакалавриат). <https://znanium.com/read?id=416443> Федотов В.А. Экономика: учебник. / В.А.Федотов, О.В. Комарова. – 4-е изд. перераб. и доп. – Москва: ИНФРА –М. 2022.- 196 с. (Высшее образование: Бакалавриат). <https://znanium.com/read?id=379137> (дата обращения 09.01.2024)
2. Титова Н.Г., Логинова Т.П. Экономика. Учебное пособие// Н.Г. Титова, Т.П. Логинова – Нижний Новгород. Нижегородский госуниверситет им. Н.И. Лобачевского. 2018. - 81 с. ISBN 978-5-91326-470-1. 100 экз.
3. Титова Н.Г., Логинова Т.П. Экономика. Учебное пособие для неэкономических специальностей. Фонд образовательных электронных ресурсов Нижегородского государственного университета. www.unn.ru/books/resources.html. Регистрационный номер 1700.18.22. 2018, - 80 с. (дата обращения 09.01.2024) [EconomicsTL.docx](#)
4. Титова Н.Г. ЭУК «Экономика-ФК-О/З». <https://e-learning.unn.ru/course/view.php?id=9686> (дата обращения 09.01.2024)

б) дополнительная литература:

1. [Басовский Л.Е., Басовская Е.Н.](#) Экономика: Учебное пособие / Л.Е.Басовский, Е.Н. Басовская. - Москва: РИОР: ИНФРА-М, 2023. - 80 с. – (Высшее образование).
2. Титова Н.Г., Смирнова Т.В. Макроэкономика. Учебно-методическое пособие. Учебно-методические разработки, зарегистрированные в Фундаментальной библиотеке ННГУ. Регистрационный номер 2193.19.07. 2019, - 56 с. <http://www.lib.unn.ru/students/380301.html> (дата обращения 09.01.24)

Интернет-ресурсы:

Официальные сайты периодической литературы

1. Официальный сайт журнала «Вопросы экономики». Электронный ресурс [Режим доступа]: www.vopreco.ru
2. Официальный сайт журнала «Мировая экономика и международные отношения». Электронный ресурс [Режим доступа]: www.naukaran.ru

3. Официальный сайт журнала «Российский экономический журнал». Электронный ресурс [Режим доступа]: www.rej.ru
4. Официальный сайт журнала «Человек и труд». Электронный ресурс [Режим доступа]: www.chelt.ru
5. Официальный сайт журнала «Экономист». Электронный ресурс [Режим доступа]: www.economist.com.ru
6. Официальный сайт журнала «Эксперт». Электронный ресурс [Режим доступа]: www.expert.ru

Современные информационные системы

1. Официальный сайт Всемирного банка. Электронный ресурс [Режим доступа]: www.worldbank.org
2. Официальный сайт Всемирной торговой организации. Электронный ресурс [Режим доступа]: www.wto.org
3. Официальный сайт Международного валютного фонда. Электронный ресурс [Режим доступа]: www.imf.org
4. Официальный сайт Министерства экономического развития и торговли. Электронный ресурс [Режим доступа]: www.economy.gov.ru
5. Официальный сайт Организации экономического сотрудничества и развития. Электронный ресурс [Режим доступа]: www.oecd.org
6. Официальный сайт Правительства РФ. Электронный ресурс [Режим доступа]: www.government.ru
7. Официальный сайт Федеральной службы государственной статистики. Электронный ресурс [Режим доступа]: www.gks.ru
8. Официальный сайт Центрального банка РФ. Электронный ресурс [Режим доступа]: www.cbr.ru

5. Приложения

Приложение 1

Титульный лист

МИНИСТЕРСТВО НАУКИ И ВЫСШЕГО ОБРАЗОВАНИЯ РОССИЙСКОЙ ФЕДЕРАЦИИ

Федеральное государственное автономное образовательное учреждение
высшего образования
«Национальный исследовательский
Нижегородский государственный университет им. Н.И. Лобачевского»

Факультет физической культуры и спорта

Контрольная работа

по экономике

Выполнил (а) студент (ка)
_____ курса заочного отделения
_____ группы

_____ ФИО (полностью)

Преподаватель
Уч. звание, уч. степень _____
ФИО _____

Нижний Новгород

_____ год

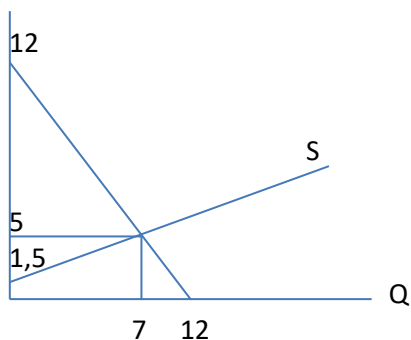
Образец решения задачи

Спрос на товар определен функцией $Q_d = 12 - p$. Предложение товара определено функцией $Q_s = 2p - 3$. (где Q_d – объем спроса, Q_s – объем предложения, p – цена).

Построить график. Определить равновесную цену и равновесный объем продаж. Определите величину избытка (дефицита), при условии установления фиксированной цены равной 25 ден. ед. Решение представить графически и аналитически. Каким образом на рынке данного товара может восстановиться равновесие?

Решение:

2) Строим график и определяем параметры рыночного равновесия:



$$Q_D = Q_S;$$

$$12 - P = -3 + 2P$$

$$P_E = 5$$

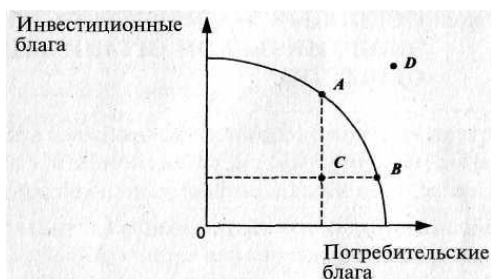
$$Q_E = 7$$

2) При установлении фиксированной цены 7 д.е., объем спроса составит 5. Объем предложения составит 11. В этом случае на рынке данного товара будет наблюдаться избыток, равный 6. Одним из вариантов поведения продавца в этом случае может быть объявление о распродаже товара, снижением цены предложения до уровня ее совпадения с ценой спроса.

Образец оформления ответов по контрольным тестам

Контрольные тесты

1. Рассмотрите представленную кривую производственных возможностей. Какой экономический смысл заключается в движении от точки А точке В?



- а) уменьшение производства инвестиционных благ при необходимости увеличения производства потребительских благ;
- б) уменьшение производства инвестиционных благ вследствие сокращения ресурсов;
- в) увеличение производства инвестиционных благ вследствие роста занятости ресурсов;
- г) движение невозможно при имеющихся ресурсах.

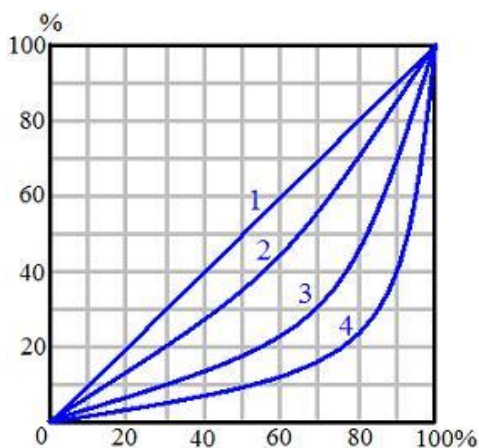
2. Инфляция за два года составила 21 %. Определить среднегодовую инфляцию.

- а) 5 % .
- б) 10 %
- в) 10,5 %
- г) 11%

3. Вычислите экономическую прибыль фирмы, если собственник бизнеса не владеет никакими ресурсами, кроме предпринимательской способности. При этом внешние издержки равны 30 тысяч рублей, нормальная прибыль равна 20 тысяч рублей, а общая выручка по итогам отчетного периода составила 60 тысяч рублей.

- а) -10 тыс.руб.
- б) 10 тыс.руб.
- в) 20 тыс.руб.
- г) 30 тыс.руб.
- д) 60 тыс.руб.

4. На рисунке изображены кривые Лоренца. Рассмотрите линию 2. Каким процентом доходов владеют 30% беднейшего населения?



- а) 80
- б) 70
- в) 20
- г) 30
- д) нельзя определить

5. Определить рыночную цену земельного участка. Известно, что он приносит владельцу ежегодную ренту 12 тыс. долл. Уровень банковского процента по депозиту составляет 8% годовых.
- а) 12 тыс. долл.
 - б) 96 тыс. долл.
 - в) 144 тыс. долл.
 - г) 150 тыс. долл.

Ответы по тестам:

1. Ответ – а.

Т.к. точки А и Б находятся на кривой производственных возможностей, очевидно, что достаточно ресурсов для каждого из вариантов выбора. Для того чтобы увеличить производство потребительских благ при неизменном количестве ресурсов (нет сдвига кривой производственных возможностей) необходимо уменьшить выпуск инвестиционных благ.

2. Ответ – г.

Индекс цен за два года составил 121% (100%+21%) или $1,21 = 1 + 0,21$ ($I_p = 1 + \pi$)

При определении среднегодового индекса считаем, что индекс цен первого года равен индексу цен второго года. ($I_{p1} = I_{p2}$).

Индекс цен за два года определяется перемножением годовых индексов ($I_{p1} \times I_{p2}$). Следовательно $I_p = \sqrt{I_{p1} * I_{p2}}$. Берем корень квадратный из 1,21 и получаем величину 1,1. Это и есть среднегодовой индекс цен. Тогда среднегодовая инфляция равна 10% ($1,1 - 1 = 0,1$; $0,1 \times 100 = 10\%$).

3. Ответ – б.

Экономическая прибыль = Общая выручка – Экономические издержки.

Экономические издержки = Внешние издержки + внутренние издержки.

Нормальная прибыль – это элемент внутренних издержек.

Следовательно: Экономическая прибыль = $60 - (30 + 20) = 10$

4. Ответ – в.

Кривая Лоренца показывает расслоение населения по уровню доходов. По вертикальной оси определяются доли доходов, по горизонтальной оси – доли населения начиная с беднейших слоев.

По линии 2 видно, что 30% беднейшего населения (по горизонтальной оси) владеют 20% доходов (по вертикальной оси).

5. Ответ – г.

Цена земли определяется по формуле:

Цена земли = рента/ставку банковского процента

Цена земли = $12 \text{ тыс.долл.} / 0,08 = 150 \text{ тыс. долл.}$

ЭКОНОМИКА

Контрольные задания и методические рекомендации по организации
самостоятельной работы студентов

Учебно-методическое пособие

Автор-составитель:
Наталья Григорьевна Титова

Федеральное государственное автономное образовательное учреждение
высшего образования «Национальный исследовательский Нижегородский
государственный университет им. Н.И. Лобачевского»
603022, Нижний Новгород, пр. Гагарина, 23.